

1. Perhatikan pengertian dibawah ini !

- (1) Ilmu yang mempelajari manusia dan kebudayaan
- (2) Ilmu yang mempelajari manusia dan usaha dalam memenuhi kebutuhan hidupnya
- (3) Ilmu yang mempelajari manusia dalam berhubungan dengan masyarakat di sekelilingnya
- (4) Ilmu yang mempelajari manusia dalam mengatasi dan beradaptasi dengan iklim /cuaca
- (5) Ilmu yang mempelajari manusia dalam mengobati berbagai penyakit yang dialaminya

Dari pernyataan diatas, yang merupakan pengertian antropologi adalah....

- A. (1)
- B. (2)
- C. (3)
- D. (4)
- E. (5)


2. Perhatikan gambar dibawah ini !



Gambar disamping menggambarkan upacara gunungan di Kraton Yogyakarta (Rangkaian Tradisi Sekaten). Peranan antropologi dalam tradisi tersebut adalah....

- A. Membangun bangsa dan negara yang lebih maju
- B. Mengetahui sikap/ budaya masyarakat dari berbagai suku bangsa
- C. Timbulnya sikap toleransi
- D. Menjadikan sikap lebih bersyukur
- E. Lebih mudah mencari solusi dari suatu masalah

3. Perhatikan gambar di baha ini ! Yang merupakan pakaian adat suku Batak adalah....



4. Perhatikan gambar dibawah ini !



Gambar disamping adalah upacara pencucian benda-benda pusaka. Contoh kegiatan masyarakat tertentu di Indonesia yang menggambarkan pada kepercayaan

- A. Animisme
- B. Dinamisme
- C. Fetisisme
- D. Polytheisme
- E. Shamanisme

5. Perhatikan table dibawah ini ! Yang termasuk dalam dialek yang berkembang di Pulau Jawa adalah

No	Dialek	A	B	C	D	E
1	Dialek Cirebon	V	V	-	-	-
2	Dialek Melayu	V	-	V	V	-
3	Dialek Sunda	V	V	V	V	V
4	Dialek Betang	-	-	V	-	V
5	Dialek Sampang	-	V	-	V	V

6. Tradisi Wiwitan adalah ritual persembahan tradisional masyarakat Jawa sebelum panen padi dilakukan. Ritual pemujaan terhadap Dewi Sri (Dewi Padi) yang mereka percaya menumbuhkan padi sebelum panen. Peran antropologi dalam peristiwa ini adalah....
- Membangun bangsa dan negara yang lebih maju
 - Mengetahui sikap masyarakat dari berbagai suku bangsa
 - Timbulnya sikap toleransi
 - Menjadikan sikap lebih bersyukur
 - Lebih mudah mencari solusi dari suatu masalah

7. Perhatikan gambar dibawah ini !



Potensi dari adanya keragaman budaya nusantara adalah...

- Terjadi konflik antar masyarakat
- Masuknya pengaruh budaya asing
- Semakin melunturnya budaya nasional
- Memperlemah integrasi nasional
- Memperkaya budaya nasional

8. Perhatikan ciri-ciri dibawah ini !

- Memiliki tinggi sedang, berambut lurus
- Memiliki watak mudah berkomunikasi dan toleransi dengan perbedaan
- Sebagian besar berada dikawasan benua Asia

Ciri-ciri diatas, yang merupakan ciri-ciri dari Ras

- Austroloid
- Causasoid
- Mongoloid
- Negroid
- Veddoid

9. Perhatikan wujud budaya lokal dibawah ini :

- memakai pakaian ulos
- mengadakan upacara nyadran
- mengikir giginya ketika beranjak dewasa
- mengadakan upacara sekatenan
- melakukan pola patrilineal

Yang merupakan wujud budaya lokal aktifitas pada masyarakat Bali dan Jogjakarta adalah....

- 1 dan 2
- 2 dan 3
- 3 dan 4
- 3 dan 5
- 4 dan 5

10. Penyimpangan kecil terhadap suatu tindakan , namun tidak akan mendapat hukuman yang berat , ganjarannya bersifat hanya celaan. Contohnya orang yang makan dengan bersuara atau cara makan tanpa sendok dan garpu. Definisi tersebut termasuk dalam tingkatan norma....

- Usage
- Folkways

- C. Custom
- D. Mores
- E. Adat istiadat

11. Perhatikan gambar dibawah ini !



Gambar disamping menunjukkan tawuran antar pelajar. Kejadian ini termasuk dalam jenis penyimpangan....

- A. Individu
- B. Primer
- C. Sekunder
- D. Tersier
- E. Wujud solidaritas

12. Perhatikan gambar dibawah ini !



Gambar Tari Kuda Lumping sebagai unsur seni budaya yang cenderung bertahan dari masa ke masa. Unsur budaya yang harus dilestarikan dari tarian ini adalah...

- A. Daya tarik pariwisata
- B. Nilai-nilai ritual
- C. Unsur hiburan semata
- D. Presentasi estetis yang ditampilkan
- E. Nilai keuntungan materi semata

13. Musim hujan sudah tiba, di berbagai daerah terjadi musibah banjir, longsor, angin ribut dan lain- lain. Adanya musibah ini dirasakan pula oleh daerah lain dengan turut merasakan apa yang diderita oleh masyarakat lain. Ini menunjukkan bahwa bangsa kita telah memiliki sikap...

- A. Empati
- B. Fantasi
- C. Partisipasi
- D. Simpati
- E. Toleransi

14. Perhatikan pernyataan dibawah ini !

- 1) kewajiban nonton bareng film berjudul "IQRA" pada kalangan dunia pendidikan .
- 2) Penggalangan dana siswa dari pihak sekolah melalui pembagian kupon Palang Merah Indonesia.
- 3) Kebijakan pemerintah DKI Jakarta tentang sekolah gratis tingkat SD sampai dengan SMP.
- 4) Kebijakan pemerintah DKI Jakarta tentang kartu jaminan kesehatan bagi warga miskin.
- 5) pembangunan banjir Kanal Timur (BKT) untuk menghindari banjir disekitar kota Jakarta.

Dari pernyataan di atas, yang menunjukkan perilaku toleransi dan empati sosial terhadap keberagaman budaya terdapat pada pernyataan nomor....

- A. (1), (2) dan (3)
- B. (1), (3) dan (5)
- C. (2) ,(3) dan (4)
- D. (2) ,(3) dan (5)
- E. (3) ,(4) dan (5)

15. Perhatikan gambar di bawah ini !



Nilai-nilai budaya yang dapat diinternalisasikan dalam pembentukan kepribadian dan karakter dalam pertunjukan Tari Saman adalah....

- A. Nilai kebersamaan
- B. Nilai Sosial
- C. Nilai kebenaran
- D. Nilai moral/ kebaikan
- E. Nilai Religius

16. Nilai kebenaran adalah nilai yang bersumber pada unsur akal manusia (rasio, budi, dan cipta). Nilai ini merupakan nilai yang mutlak sebagai suatu hal yang kodrati. Tuhan memberikan nilai kebenaran melalui akal pikiran manusia. Contoh konkrit dari jenis nilai ini adalah....
- A. Seorang hakim yang bertugas memberi sanksi kepada orang yang diadili
 - B. Berbicara dengan orang yang lebih tua dengan tutur bahasa yang halus, merupakan etika yang tinggi nilainya
 - C. seseorang harus beribadah menurut agamanya masing-masing.
 - D. setiap tindakan dan perilaku individu di masyarakat, selalu mendapat perhatian dan berbagai macam penilaian
 - E.
17. Maraknya tindakan korupsi di Indonesia, satu persatu telah diungkap dan ditangani oleh KPK. Untuk itulah keberadaan KPK sebagai institusi penegakan hukum di Indonesia sangat dibutuhkan dan harus mendapat dukungan dari berbagai pihak. Tindakan Korupsi dapat melemahkan kepribadian dan karakterisasi bangsa dalam kehidupan masyarakat. Ini menjadi tugas utama dari setiap keluarga dan institusi pendidikan dalam menanamkan nilai.....dalam setiap pribadi manusia. Sehingga tertanam rasa malu apabila melakukan tindak korupsi.
- A. Nilai keindahan
 - B. Nilai Sosial
 - C. Nilai keberanian
 - D. Nilai moral/ kebaikan
 - E. Nilai Kontrol
18. Perhatikan gambar dibawah ini!




Di era Reformasi terpilihah Presiden-Presiden pada gambar disamping, dimana pelaksanaan pemilu dilaksanakan dengan memperhatikan nilai-nilai....

- A. Nilai moral dan sosial
 - B. Nilai keindahan dan kebenaran
 - C. Nilai kebenaran dan moral
 - D. Nilai religius dan sosial
 - E. Nilai kebenaran dan religius
19. Seorang polisi lalu lintas (Polantas) ditarik bajunya hingga tercahar oleh seorang ibu yang marah karena ditilang di Jalan Jatinegara Barat, Kampung Melayu, Jakarta Timur, beberapa waktu yang lalu. Sehingga rekaman video kejadian ini pun menjadi viral di media sosial. Perempuan itu marah saat polisi mengambil gambarnya dengan kamera HP. Merasa tak senang, wanita itu memrotasnya hingga buku yang dipegang polisi terjatuh. Sekalipun demikian, polisi tersebut tetap menjalankan tugasnya. Sikap polisi ini menggambarkan..... dalam menegakkan hukum di Indonesia.
- A. Sikap keberanian dan keadilan
 - B. sikap patriotisme dan kejujuran
 - C. sikap keberanian dan kejujuran
 - D. sikap patriotsme dan nasionalisme
 - E. sikap pantang menyerah

20. Kasus meninggalnya mahasiswa di sebuah sekolah tinggi ,membuat dunia pendidikan di Indonesia kembali tercoreng. Mahasiswa tersebut meninggal karena adanya tindak kekerasan dan penganiayaan yang dilakukan oleh seniornya. Perploncoan seringkali dilakukan oleh mahasiswa senior terhadap juniornya, dan ini dilakukan secara turun temurun. Perploncoan merupakan masalah sosial dalam klasifikasi...
- A. masalah masyarakat
 - B. masalah biologis
 - C. masalah ekonomi
 - D. masalah kebudayaan
 - E. masalah politik
21. Perhatikan pernyataan berikut :
- 1) Tindak kenakalan
 - 2) Tawuran/perkelahian antar kelompok
 - 3) Tindak kejahatan berkelompok
 - 4) Penyimpangan budaya
- Pernyataan diatas dilihat dari kuantitas para pelaku merupakan bentuk penyimpangan
- A. Melanggar hukum
 - B. Kolektif
 - C. Individu
 - D. Nilai dan norma
 - E. Kriminal
22. Seorang Siswa yang terlambat datang ke sekolah karena ban sepeda motornya bocor, penyimpangan ini bersifat temporer dan tidak dilakukan secara berulang-ulang dan masih dapat ditolerir oleh masyarakat disebut perilaku...
- A. Penyimpangan Primer
 - B. Penyimpangan Sekunder
 - C. Penyimpangan Kontemporer
 - D. Penyimpangan pada nilai
 - E. Penyimpangan pada peraturan
23. Adanya emansipasi wanita dalam kehidupan masyarakat banyak memunculkan wanita karier. Misalnya saja pekerjaan menjadi ojek motor, dulu pekerjaan itu banyak dilakukan oleh laki-laki, sekarang sudah banyak ditemukan wanita bekerja sebagai ojek motor. Peran wanita tersebut termasuk dalam bentuk penyimpangan...
- A. Primer
 - B. Sekunder
 - C. Positif
 - D. Negatif
 - E. Represif

24. Perhatikanlah gambar berikut



Gambar tersebut merupakan bangunan berupa candi yang terindah dan sangat menakjubkan. Sekalipun bangunan tersebut merupakan hasil dari proses akulturasi dengan kebudayaan asing yaitu

- A. Hindu
 - B. Budha
 - C. Persia
 - D. Islam
 - E. Cina
25. Pernikahan antar ras saat ini banyak terjadi dikalangan aktris /aktor film. Ini terjadi karena faktor keterbukaan kedua belah pihak untuk menerima kelebihan dan kekurangan masing-masing kebudayaan pasangan hidupnya. Proses ini disebut dengan....
- A. Sinkritisme
 - B. Penetrasi

- C. Amalgamasi
- D. Akulturasi
- E. Diffusi

26. Pada zaman dahulu petani menggarap ladangnya menggunakan siklus musim, tetapi pada zaman sekarang petani menggunakan sistem pengairan dalam mengolah sawah. Hal ini terjadi karena adanya faktor pendorong dinamika budaya yaitu...
- A. sikap masyarakat yang lebih terbuka
 - B. rasa tidak puas dengan nilai-nilai yang sudah ada
 - C. terdapat penyimpangan terhadap sistem-sistem yang berlaku
 - D. adanya prasangka terhadap hal-hal baru
 - E. adanya sikap mau menerima budaya lain

27. Perhatikan gambar berikut



Gambar tersebut erat kaitannya dengan kepercayaan:

- A. Animisme
 - B. Dinamisme
 - C. Politeisme
 - D. Monoteisme
 - E. Panteisme
- F.

28. Beberapa pernyataan :

- 1) pembagian kelompok
- 2) sumber keagamaan
- 3) sistem upacara keagamaan
- 4) kelompok keagamaan
- 5) emosi keagamaan

Yang termasuk unsur-unsur pokok religi adalah...

- A. 1, 2, dan 3
 - B. 1, 2, dan 4
 - C. 2, 3, dan 4
 - D. 2, 4, dan 5
 - E. 3, 4, dan 5
29. Salah satu fungsi bahasa adalah untuk mempelajari naskah-naskah kuno, merupakan fungsi bahasa untuk tujuan...
- A. Praktis
 - B. Artistik
 - C. Bahasa nasional
 - D. Filosofis
 - E. Alat ekspresi
30. Cerita Malin Kundang berasal dari Sumatera Barat, menceritakan tentang seorang anak laki-laki yang durhaka terhadap ibunya, sehingga dikutuk menjadi batu. Nilai yang dapat diambil dalam cerita tersebut adalah...
- A. Menghormati orang tua
 - B. Kejujuran
 - C. Keikhlasan
 - D. Ketabahan
 - E. Kesabaran
31. Perhatikan contoh tradisi lisan berikut ini:
- (1) Sangkuriang
 - (2) Jaka tingkir

- (3) Malin kundang
- (4) Jaka Tarub
- (5) Roro Jonggrang

Berdasarkan contoh di atas, yang merupakan cerita dari Jawa adalah nomor

- A. (1), (2) dan (3)
- B. (1), (3) dan (5)
- C. (2), (3) dan (4)
- D. (2), (4) dan (5)
- E. (3), (4) dan (5)

32. Ulos dan batik merupakan bagian dari keragaman budaya. Untuk membuat selebar ulos dari Batak dan selebar batik tulis dari Solo memerlukan waktu lama serta memerlukan ketekunan dan kesabaran. Sikap yang harus dilakukan untuk menghadapi keragaman tersebut adalah

- A. menyimpan karya tersebut di museum untuk koleksi
- B. menjadikannya sebagai suatu barang yang istimewa
- C. melestarikan dan melindungi karya budaya tersebut agar tidak punah
- D. mengusulkan untuk menjadikannya sebagai pakaian resmi
- E. menggunakan dan merawat kain tersebut sebagaimana mestinya

33. Perhatikan pernyataan di bawah ini:

- (1) Untuk alat komunikasi
- (2) Sebagai bahasa resmi Negara
- (3) Sebagai bahasa sehari-hari
- (4) Sebagai bahasa penghubung di tingkat nasional
- (5) Sebagai bahasa pengantar di dunia pendidikan

Berdasarkan pernyataan di atas, yang menunjukkan fungsi bahasa sebagai bahasa Negara adalah nomor...

- A. (1), (2) dan (3)
- B. (1), (3) dan (5)
- C. (2), (3) dan (4)
- D. (2), (4) dan (5)
- E. (3), (4) dan (5)

34. Dalam satu kampung terdapat satu suku bangsa yang warganya memeluk agama yang berbeda. Mereka bisa hidup berdampingan dan bersatu tanpa saling curiga. Faktor pendorong dalam mewujudkan integrasi nasional berdasarkan ilustrasi tersebut adalah...

- A. mendahulukan kepentingan kelompoknya
- B. menunjukkan gambaran budaya yang menegarah ke stereotype
- C. setiap suku bangsa hidup dengan karakteristiknya sendiri
- D. karena kedua kelompok suku bangsa belum saling mengenal
- E. memiliki latar belakang sejarah yang sama dan nasib yang sama


35. Para atlet Indonesia di pagelaran ASIAN GAMES berjuang mengharumkan nama bangsa Indonesia di bidang olah raga. Nilai yang dapat diinternalisasi sebagai upaya memupuk karakter bangsa adalah nilai

- A. ketrampilan untuk masa depan
- B. menanamkan jiwa kepemimpinan
- C. menumbuhkan kreativitas dan kemandirian
- D. mengembangkan keteguhan dan ketangguhan
- E. semangat kepahlawanan dan nasionalisme

36. Berikut ini yang merupakan pengertian etnografi, yaitu. ...

- A. suatu lukisan manusia/fenotif
- B. karya tulis ilmiah suatu pelajar/mahasiswa
- C. penyebaran budaya nasional ke budaya lokal
- D. gambar manusia meliputi asal-usul leluhurnya
- E. penggambaran tentang suatu kehidupan suku bangsa

37. Seorang peneliti mengajukan pertanyaan- pertanyaan konkret seputar pengalaman informan dan tidak memberikan komentar- komentar yang membuat informan malu. Peneliti membiarkan informan untuk bercerita apa saja yang ingin diceritakan. Peneliti tidak mendominasi percakapan dalam wawancara. Cara mengumpulkan data tersebut menggambarkan....
- A. Wawancara tertutup
 - B. Wawancara internal
 - C. Observasi partisipasi
 - D. Wawancara mendalam
 - E. Pengamatan terkendali.
38. Setiap masyarakat mempunyai cara sendiri dalam menghadapi berbagai permasalahan yang dihadapinya. Solusi yang dipilih selalu didasarkan pada budaya setempat, sehingga antara satu masyarakat dengan masyarakat lainnya berbeda. Berdasarkan deskripsi di atas, peranan penelitian etnografi adalah sebagai berikut:
- A. mengetahui berapa banyak jumlah suku bangsa di Indonesia.
 - B. jumlah bahasa dan dialek yang berkembang dalam masyarakat.
 - C. Jumlah penduduk yang benar di wilayah Indonesia
 - D. mengetahui gambaran tentang kehidupan sosial budaya suku bangsa.
 - E. mengumpulkan seberapa banyak hukum adat yang berlaku di Indonesia
39. Pak Ahmad sedang melakukan penelitian tentang kebudayaan di masyarakat pedalaman. Ia mencatat berbagai peristiwa yang ditemukannya, ia amati kegiatan- kegiatan yang dilakukan oleh masyarakat tersebut, bahkan benda benda pusaka yang dikeramatkannya ia terus teliti dengan cermat. Teknik pengumpulan data pada penelitian yang dilakukan pak Ahmad adalah:
- A. wawancara
 - B. observasi
 - C. partisipasi
 - D. kualitatif
 - E. random sampling
40. Perhaikan gambar



Mesin uap adalah salah satu penemuan IPTEK yang sangat monumental. Kemunculannya telah banyak memberikan arti bagi kehidupan manusia, yakni terjadinya perubahan sosial budaya di berbagai aspek. Perubahan yang paling menonjol yang ditimbulkan oleh penemuan tersebut adalah di bidang:

- A. Politik kemasyarakatan
 - B. Sistem komunikasi
 - C. Pengembangan transportasi
 - D. Pengembangan industri
 - E. Perdagangan berskala dunia
41. Ilmu pengetahuan kian maju, seiring kebutuhan hidup manusia yang semakin meningkat. Dalam dunia pendidikan khususnya dalam proses pembelajaran, hasil Iptek dapat dirasakan manfaatnya, antara lai:
- A. Alat- alat peraga yang digunakan oleh guru dalam KBM

- B. penerimaan siswa baru secara daring
- C. penggunaan buku- buku elektronik (e-book)
- D. penggunaan alat komunikasi dalam pendidikan
- E. mengembangkan metode pembelajaran yang baik

42. Perkembangan iptek dengan segala dampaknya sudah menyebar ke segala bidang kehidupan manusia. Di satu sisi iptek telah mendorong kemajuan masyarakat, namun di sisi lain banyak pula dampak negatif yang ditimbulkan dari perkembangan iptek. Dampak negatif iptek yang perlu diwaspadai antara lain adanya ...
- A. Sikap anti demokratis yang menjadi ciri masyarakat modern
 - B. Sikap mental yang pesimis terhadap masa depan
 - C. Sikap iri akibat munculnya ketimpangan budaya
 - D. Semangat untuk orientasi ke masa depan
 - E. Etos kerja yang perlu terus dikembangkan

43. Perhatikanlah beberapa pernyataan berikut:

- (1) Seorang ibu bercerita kepada anaknya yang hendak tidur
- (2) Kegiatan di kelas menggunakan alat elektronik LCD
- (3) Masyarakat sengan menonton pertandingan sepak bola di lapangan
- (4) Bapak guru sedang mengajarkan para siswa cara membuat robot
- (5) masyarakat berkomunikasi dengan menggunakan hand phone

Dari beberapa pernyataan di atas, yang termasuk proses pewarisan Iptek secara modern adalah:

- A. (1), (2) dan (3)
- B. (1), (3) dan (5)
- C. (2), (3) dan (4)
- D. (2), (4) dan (5)
- E. (3), (4) dan (5)

44. Perhatikan gambar berikut.

Pernyataan yang relevan dengan gambar di era informasi saat ini adalah:

- A. Dalam memenuhi segala kebutuhan ekonomi menjadi serba mudah
- B. Hasil teknologi transportasi telah menjadikannya sebagai kendaraan termewah saat ini
- C. Dunia berubah menjadi kecil tanpa ada batas antara satu wilayah dengan wilayah yang lainnya
- D. Memberikan peranan penting dan menjadi bagian dari proses globalisasi
- E. Indonesia sudah mampu membuat pesawat terbang, antara lain N- 219



45. Perhatikan gambar di sebelah. Peranan yang ditimbulkan dari penggunaan alat canggih tersebut di era globalisasi adalah...

- A. Mengembangkan komunikasi dengan mudah dan cepat
- B. Semakin menjauhkan seseorang dari kebiasaan- kebiasaan buruk
- C. Dapat menggantikan proses pembelajaran di lembaga formal
- D. Semakin efisiensi dalam berkomunikasi
- E. Turut serta dalam pembangunan bangsa dan negara

46. Era globalisasi telah menjadikan masyarakat di dunia semakin mudah untuk berkomunikasi, bertukar kebudayaan dan berinteraksi pada umumnya. Apa yang terjadi di belahan dunia yang lain, pada saat yang sama dapat menyaksikannya. Demikian pula di bidang ekonomi, telah

mengalami perubahan yang sangat cepat. Pengaruh yang sangat signifikan adanya proses globalisasi di bidang ekonomi perdagangan adalah...

- A. mudahnya penukaran valuta asing
- B. perdagangan bebas antar negara
- C. adanya jual beli saham
- D. semakin bebas melakukan ekspor impor
- E. Semakin maraknya pasar modern

47. Pengaruh positif globalisasi terhadap nilai- nilai budaya Indonesia saat ini antar lain:

- A. Semakin melunturnya budaya gotong royong
- B. Bangsa Indonesia beralih dari agraris ke teknologi
- C. Semakin meningkatnya etos kerja dan menghargai waktu
- D. Produk budaya Eropa semakin berkembang di masyarakat
- E. Kian menguatnya nilai- nilai etnosentrisme

48. Tabel berbagai cara peningkatan kepedulian social

No	Masalah	Cara peningkatan kepedulian
1	Pengangguran besar	Meningkatkan ketrampilan orang yang kena PHK
2	Kesehatan rendah	Memberikan layanan gratis pada siswa yang tidak mampu
3	Pendapatan rendah	Memberikan pinjaman lunak jangka panjang
4	Pendidikan rendah	Memberikan pelayanan gizi balita diposyandu
5	Lingkungan kumuh	Membuat sanitasi lingkungan yang memadai

Dari tabel tersebut maka antara masalah social dan cara peningkatan kepedulian Social yang tepat di tunjukkan no...

- A. (1), (2), dan (3)
- B. (1), (3), dan (5)
- C. (2), (3), dan (4)
- D. (2), (4), dan (5)
- E. (3), (4), dan (5)

49. Kepedulian masyarakat terhadap masalah sosial semakin tinggi. Hal ini terlihat dari adanya upaya dari berbagai lapisan masyarakat untuk membantu masyarakat yang terpinggirkan, membantu orang miskin dan lain- lain.Salah satu media social yang berperan besar dalam menciptakan kepedulial. Sosial masyarakat internasional adalah...

- A. Buku
- B. Radio
- C. Majalah
- D. Surat kabar
- E. Televisi

50. Hasil penelitian di tempat para pemulung menunjukkan bahwa masyarakat yang berprofesi pemulung berasal dari keluarga miskin dan berpendidikan rendah. Maka bentuk kepedulian terhadap generasi mereka untuk bekal di masa depan adalah...

- A..Memberikan pinjaman uang bersyarat
- B. Membantu pekerjaan para pemulung
- C. Meningkatkan kinerja pada pemulung
- D. Memberikan pendidikan dan keterampilan
- E. Membangun rumah murah

KUNCI JAWABAN
T0 5 ANTROPOLOGI 2016/ 2017

NO	JWB		NO	JWB
1	A		26	B
2	B		27	A
3	D		28	E
4	B		29	D
5	B		30	A
6	A		31	D
7	E		32	C
8	C		33	D
9	C		34	E
10	A		35	E
11	C		36	E
12	A		37	D
13	A		38	D
14	C		39	B
15	A		40	D
16	D		41	C
17	D		42	C
18	C		43	D
19	E		44	D
20	D		45	A
21	B		46	B
22	A		47	C
23	C		48	B
24	B		49	E
25	C		50	D