

TRYOUT 2

TES KEMAMPUAN DAN POTENSI AKADEMIK

SBMPTN 2016

Tanggal : -
Waktu : 105 MENIT
Jumlah Soal : 90

1. Jika rajin belajar, maka otak menjadi cerdas.
Jika otak menjadi cerdas, maka nilai ulangan bagus.
A. Jika rajin belajar, maka nilai ulangan bagus.
B. Jika tidak rajin belajar, maka akan bodoh.
C. Jika rajin belajar, maka nilai ulangan bagus.
D. Jika tidak rajin belajar, maka nilai ulangan tidak bagus.
E. Rajin belajar dan semua ulangan bagus.
2. Korban yang memiliki tabungan kurang dari tiga juta rupiah mendapat bantuan dan hadiah.
Toni menerima bantuan, tetapi tidak menerima hadiah.
A. Toni adalah korban yang tabungannya lebih dari tiga juta rupiah.
B. Toni adalah korban yang tabungannya kurang dari tiga juta rupiah.
C. Toni adalah korban yang berhak menerima hadiah.
D. Toni bukan korban yang berhak menerima hadiah.
E. Toni adalah korban yang tabungannya tiga juta rupiah.
3. Jika naik kereta api, harus membayar kontan atau memakai tiket abonemen.
Adit naik kereta api padahal tidak membayar kontan.
A. Adit tidak mempunyai uang kontan.
B. Adit tidak mempunyai tiket abonemen.
C. Adit membayar dengan tiket abonemen.
D. Adit membayar kontan untuk naik kereta api.
E. Adit tidak membayar untuk naik kereta api.
4. Semua siswa pandai berbahasa Jerman.
Siswa yang pandai berbahasa Jerman gemar berdiskusi.
Siswa yang gemar berdiskusi tidak pandai berdebat.
A. Sebagian siswa tidak pandai berdebat, tetapi pandai berbahasa Jerman.
B. Sebagian siswa gemar berdiskusi, tetapi tidak pandai berbahasa Jerman, dan tidak pandai berdebat.
C. Sebagian siswa gemar berdiskusi dan pandai berbahasa Jerman.
D. Semua siswa pandai berbahasa Jerman, tetapi tidak gemar berdiskusi.
E. Semua siswa tidak pandai berdebat, tetapi pandai berbahasa Jerman.
5. Di sebuah kebun, cangkul selalu dipakai dengan sabit.
Memakai sabit selalu disertai sarung tangan.
A. Jika sarung tangan tidak dikenakan, maka cangkul dipakai.
B. Jika cangkul tidak dipakai, maka sarung tangan dikenakan.
C. Jika sabit dipakai, maka cangkul tidak dipakai.
D. Jika sarung tangan dikenakan, maka cangkul tidak dipakai.
E. Jika sarung tangan tidak dikenakan, maka cangkul tidak dipakai.

6. hari :... ≈ titik :...
 - A. September – kecil
 - B. bulan – tanda baca
 - C. tahun – koma
 - D. kalender – menulis
 - E. Minggu – garis

7. produksi : ... ≈ perjalanan : ...
 - A. upah – pulang
 - B. pekerjaan – kecepatan
 - C. pabrik – arah
 - D. produk – tujuan
 - E. mesin – kendaraan

8. gerakan :... ≈ kotoran :...
 - A. diam – sapu
 - B. pindah – pupuk
 - C. getar – bau
 - D. dinamis – limbah
 - E. putaran – tercemar

9. gurun :... ≈ hutan :...
 - A. pasir – belantara
 - B. sahara – pohon
 - C. kering – lebat
 - D. oasis – sungai
 - E. matahari – rimbun

10. buku :... ≈ gawang :...
 - A. rak – jaring
 - B. ilmu – kiper
 - C. tulisan – pemain bola
 - D. bacaan – sepak bola
 - E. perpustakaan – lapangan bola

Teks berikut ini digunakan untuk menjawab soal nomor 11 – 13

Dalam pertandingan bulu tangkis Arman selalu kalah melawan Bambang, tetapi dalam cabang olahraga yang lainnya ia selalu menang bila bertanding melawan Bambang. Candra selalu menang dalam pertandingan tenis meja melawan Bambang, tetapi dalam cabang bulu tangkis ia akan kalah bila melawan Arman. Dudi adalah pemain bulu tangkis terbaik, tetapi dalam cabang tenis meja kalah dari Edi. Edi lebih baik daripada Arman, sedangkan dalam cabang bulu tangkis ia menempati urutan tepat di bawah Dudi.

11. Siapakah pemain bulu tangkis terbaik di antara kelima atlet tersebut?
 - A. Arman
 - B. Bambang
 - C. Candra
 - D. Dudi
 - E. Edi

12. Untuk cabang olahraga tenis meja, urutan ranking pemain terbaik yang paling tepat?
- A. Edi – Arman – Candra – Bambang – Dudi
 - B. Edi – Dudi – Candra – Bambang – Arman
 - C. Arman – Bambang – Candra – Edi – Dudi
 - D. Dudi – Edi – Candra – Bambang – Arman
 - E. Bambang – Arman – Candra – Dudi – Edi
13. Untuk cabang olahraga bulu tangkis, urutan ranking pemain terbaik manakah yang paling tepat?
- A. Dudi – Edi – Bambang – Arman – Candra
 - B. Dudi – Edi – Arman – Bambang – Candra
 - C. Dudi – Edi – Candra – Bambang – Arman
 - D. Bambang – Arman – Dudi – Edi – Candra
 - E. Bambang – Dudi – Edi – Arman – Candra

Teks berikut ini digunakan untuk menjawab soal nomor 14 – 15

Seorang suka relawan akan membagikan paket makanan yang terdiri dari beras, gula, mi instan, dan minyak goreng, kepada 6 desa yang berada di satu jalur jalan poros yang telah rusak. Pos komando (Posko) sebagai titik 0 km ada di pusat kota. Desa C berjarak 2 km lebih dari pada desa A yang hanya 3 km dari posko. Desa B berjarak dua kali desa C jika dihitung dari posko. Desa D jaraknya sama dengan desa F, yakni 7 km dari posko. Desa E berjarak 2 kali jarak desa A jika dihitung dari posko. Dengan alasan ketersediaan alat transportasi dan medan yang berat, maka desa yang berjarak lebih dari 6 km hanya mendapatkan mi instan dan gula, sedangkan desa yang sama atau kurang dari 6 km mendapatkan paket lengkap. Di samping itu, setiap 2 km kendaraan pengangkut bantuan harus istirahat meskipun sudah berhenti lama ketika menurunkan bantuan di suatu desa tertentu.

14. Jika saat menurunkan bantuan juga dianggap sebagai istirahat, maka tempat istirahat ke-6 kendaraan pengangkut berada di ...
- A. Desa E
 - B. Desa D dan F
 - C. Antara desa A dan posko
 - D. Antara desa C dan desa D atau F
 - E. Antara desa D atau F dan desa B
15. Jika kunjungan kendaraan pengangkut bantuan harus diawali dari desa terdekat sampai desa terjauh, maka secara berurutan desa-desa yang akan disinggahi adalah desa ...
- A. A,B,D,(D&F),E
 - B. C,E,(D&F),B,A
 - C. A,C,E,(D&F),B
 - D. E,(D&F),A,B,C
 - E. A,C,E,B,(D&F)
16. 2,2,4,5,7,8,11,...
- A. 9
 - B. 10
 - C. 11
 - D. 12
 - E. 13
17. 10,24,38,52,....
- A. 54
 - B. 56
 - C. 60
 - D. 64
 - E. 66

18. 7,3,14,6,21,9,...
 A. 24
 B. 25
 C. 27
 D. 28
 E. 30
19. 1,1,4,5,7,9,10,...
 A. 12
 B. 13
 C. 14
 D. 15
 E. 16
20. 3,4,9,8,21,16,39,28,...
 A. 30
 B. 34
 C. 48
 D. 54
 E. 63
21. 6,12,13,18,27,30,48,...
 A. 56
 B. 54
 C. 52
 D. 50
 E. 48
22. $\frac{1}{2}, \frac{2}{3}, \frac{5}{6}, 1, \dots$
 A. $\frac{4}{3}$
 B. $\frac{7}{6}$
 C. $\frac{5}{3}$
 D. $\frac{9}{6}$
 E. $\frac{7}{3}$
23. Jika perbandingan antara peserta wanita dan peserta pria dalam suatu pertemuan adalah 2 : 3, berapa persentase peserta pria dalam pertemuan tersebut?
 A. 20%
 B. 25%
 C. 30%
 D. 40%
 E. 60%
24. $\frac{3}{2}$ dari $\frac{7}{3} \times 9$ adalah...
 A. 21,5
 B. 30,5
 C. 31,5
 D. 43,5
 E. 53,5
25. Nilai dari $1 - \sqrt{1-0,84} + \sqrt{2-1,99} = \dots$
 A. 0,3
 B. 0,4
 C. 0,5
 D. 0,6
 E. 0,7
26. Jika $2^{m+2} = 64$ dan $3^{n+2} = 27$, berapakah nilai $2m + n$?
 A. 5
 B. 7
 C. 9
 D. 11
 E. 13

27. Nilai z yang memenuhi persamaan $\frac{-2}{3-z^2} = \frac{8}{z^2}$ adalah...

- A. -1
- B. -2
- C. -3
- D. -4
- E. -5

28. Diketahui $x^2y^5 - 38 = 250$ dan $\frac{2}{xy} = \frac{1}{3}$, maka nilai dari $\frac{2}{3}x - \frac{7}{2}y + 11 = \dots$

- A. 5
- B. 6
- C. 7
- D. 8
- E. 9

29. Diketahui:

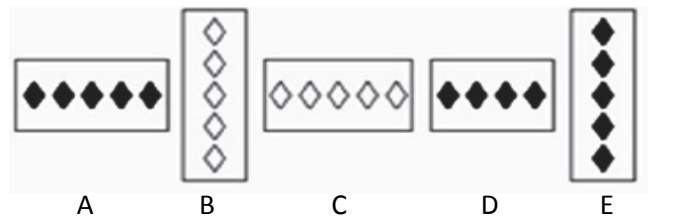

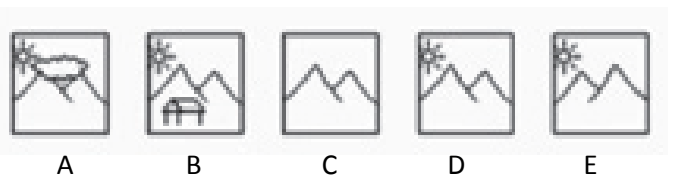
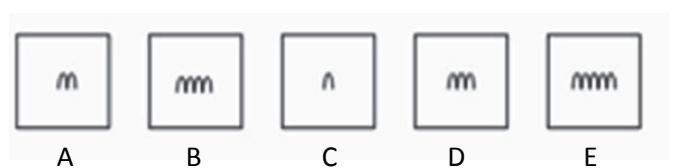
$27^{(8-a)} = 9^{(a+2)}$ maka nilai $\frac{1}{2}a - 10 = \dots$

- A. -7
- B. -8
- C. -9
- D. -10
- E. -11

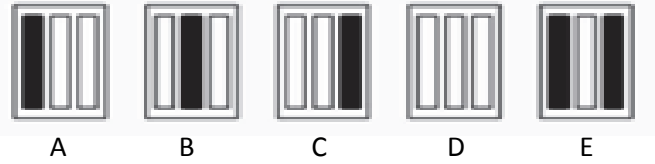
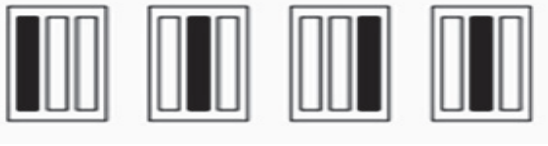
30. Diketahui lebar persegi panjang seperlima dari panjangnya. Jika luasnya 180 satuan luas dan lebarnya p satuan panjang, maka nilai $-15 + \sqrt{3p^2 - 27} = \dots$

- A. -4
- B. -5
- C. -6
- D. -7
- E. -8

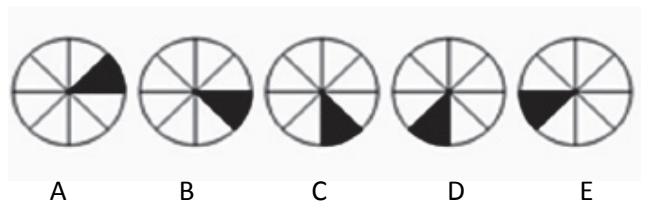
Carilah satu gambar di sebelah kanan yang mempunyai hubungan logis dengan gambar di sebelah kiri!



35.

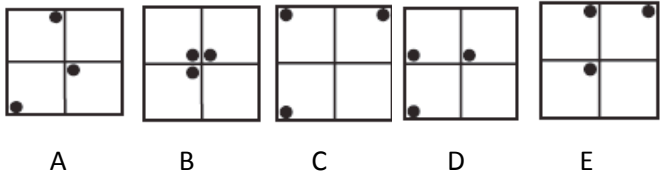
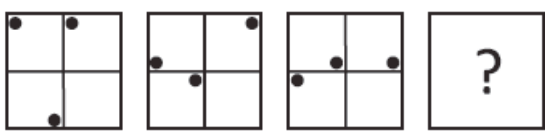


36.



Pilihlah gambar (A), (B), (C), (D), atau (E) untuk melanjutkan pola gambar yang tersedia!

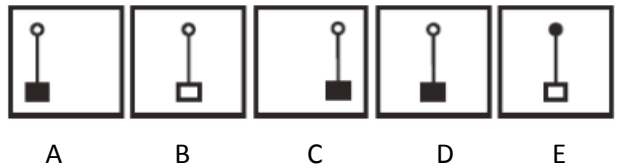
37.



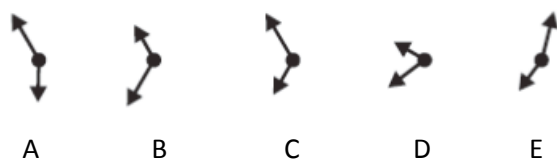
38.



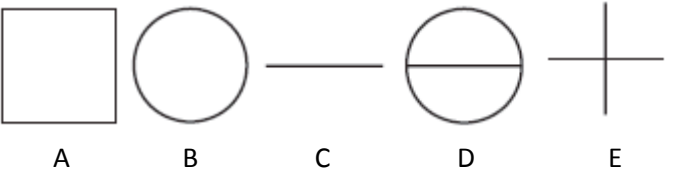
39.



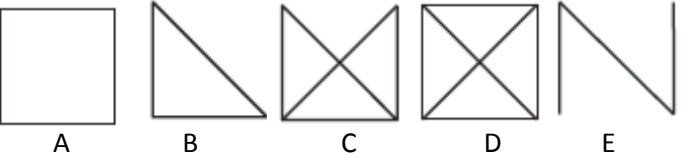
40.



41.



42.



51. Jika $1 < a < 2$, maka semua nilai x yang memenuhi pertidaksamaan $\frac{-x^2 + 2ax - 6}{x^2 + 3x} \leq 0$ adalah...
- A. $x < -3$ atau $x > 0$
 - B. $x < -3$ atau $x \geq -2$
 - C. $x \leq -2$ atau $x \geq 2$
 - D. $-3 < x < 0$
 - E. $-2 < x < 0$

52. Ana ingin membeli sepeda dengan harga dua kali sepeda yang ingin dibeli Ani. Ani telah memiliki uang Rp150.000,00 dan akan menabung Rp3.000,00 per minggu. Ana telah memiliki uang Rp100.000,00 dan akan menabung Rp10.000,00 per minggu. Harga sepeda yang akan dibeli Ani adalah...
- A. Rp200.000,00
 - B. Rp300.000,00
 - C. Rp400.000,00
 - D. Rp500.000,00
 - E. Rp 600.000,00

53. Perhatikan tabel berikut!

Umur	Frekuensi
5	3
6	5
7	8
8	4

Tabel tersebut menunjukkan umur 20 orang di kota A, 2 tahun yang lalu. Jika pada tahun ini, 3 orang berumur 7 tahun dan seorang berumur 8 tahun pindah keluar kota A, maka usia rata-rata 16 orang yang tinggal saat ini di kota A adalah

- A. 7 tahun
 - B. 7,5 tahun
 - C. 8 tahun
 - D. 8,5 tahun
 - E. 9 tahun
54. Median, rata-rata, dan modus dari data yang terdiri atas empat bilangan asli adalah 7. Jika selisih antara data terbesar dan data terkecil adalah 6, maka hasil kali empat bilangan tersebut adalah
- A. 1.860
 - B. 1.864
 - C. 1.960
 - D. 1.976
 - E. 1.987

55. Jika $f\left(\frac{1}{x}\right) = \frac{2-x}{1+3x}$, maka nilai a yang memenuhi $f(a-1) = -5$ adalah...

- A. 1
- B. $\frac{1}{2}$
- C. -1
- D. $-\frac{3}{2}$
- E. -2

Teks berikut untuk menjawab soal nomor 61 – 65!

Kebenaran, kejujuran, dan keadilan adalah jiwa dari pengetahuan, semangat dasar, tiap reksa pendidikan. Tanpa kebenaran, manusia jatuh pada subjektisme dalam mengetahui dan pengetahuan bisa dimanipulasi. Bom atom di Jepang adalah contoh kebenaran pengetahuan dimanipulasi untuk menghancurkan. Tanpa keadilan, pengetahuan yang dalam dirinya menyimpan kekuasaan hanya menindas mereka yang lemah, tak berdaya dan tersingkirkan.

Namun, kejujuran bisa rapuh di muka hukum saat keadilan dimanipulasi dengan kekuasaan. Kejujuran bisa berubah menjadi penindasan dan ancaman. Kebenaran bisa menjadi tuduhan pencemaran. Keadilan bisa menjadi bulan-bulanan pemegang kebijakan dan kekuasaan. Itulah yang kini sedang dialami para guru pembongkar kecurangan UN. Mereka secara struktural dilengserkan dan secara psikologis dilemahkan. Bahkan, masa depan mereka (anak dan istri/suami) pun dipertaruhkan.

61. Pokok pikiran alinea kedua wacana di atas adalah...

- A. Kejujuran dapat rapuh jika dimanipulasi oleh kekuasaan.
- B. Kejujuran dan keadilan dimanipulasi demi kebenaran hukum.
- C. Kejujuran dapat berubah menjadi penindasan dan ancaman.
- D. Kecurangan dalam UN dilakukan oleh para guru sendiri.
- E. Kejujuran dapat dimanipulasi demi kelulusan dalam UN.

62. Terdapat kesalahan pada kalimat-kalimat pembentuk paragraf di atas, yaitu pada

- A. penulisan partikel '-pun' seharusnya dirangkai pada kata mereka
- B. kata 'subjektisme' pada kalimat tersebut harusnya subjektisme
- C. tiadanya tanda koma (,) setelah kata tak berdaya
- D. kata penghubung 'bahkan' pada kalimat terakhir mestinya diganti dengan 'namun'.
- E. pemakaian tanda koma yang mengapit kata semangat dasar.

63. Apa perbedaan gagasan antarparagraf dalam teks tersebut?

- A. Paragraf ke-1 menjadi penyebab akibat paragraf ke-2
- B. Paragraf ke-1 merupakan perlawanan dari paragraf ke-2
- C. Paragraf ke-2 menjelaskan paragraf ke-1
- D. Paragraf ke-2 bentuk pertentangan dari paragraf ke-1
- E. Paragraf ke-2 memaparkan contoh dari paragraf ke-1

64. Istilah "subjektisme" dalam wacana di atas menunjuk pada makna ...

- A. Ukuran kebenaran kemanusiaan.
- B. Ukuran kebenaran menurut pendapat umum.
- C. Kebenaran berdasarkan kejujuran pribadi.
- D. Kebenaran yang tidak mempunyai ukuran.
- E. Ukuran kebenaran menurut diri sendiri.

65. Penggunaan kata yang tidak tepat terdapat pada kata

- A. psikologis
- B. struktural
- C. lengser
- D. subjektisme
- E. reksa

Teks berikut untuk menjawab soal 66 – 69!

Pada waktu itu dunia sepak bola dikejutkan dengan akuisisi klub Manchester City oleh investor dari Dubai. Uang tidak bisa membeli cinta? Tanyakan hal itu kepada Kaka dan Manchester City. Tawaran City senilai Rp2,1 triliun dan gaji tertinggi di dunia tak bisa memisahkan Kaka dari AC Milan memberikan suntikan moral dan tenaga pada klub “merah hitam” itu pada pekan-pekan krusial seri-A.

Isu soal uang dan sepak bola tidak akan berakhir dengan kolapsnya pembelian Kaka. City dengan dana tak terbatas akan beralih ke tempat lain membawa sekoper uang. Uang yang akan membuat City sebagai salah satu klub kaya di jajaran liga Inggris. Namun, budaya lama loyalitas kepada klub ternyata masih bisa mengalahkan uang.

66. Topik yang tepat bacaan di atas adalah
- A. Manchester City menjadi klub kaya.
 - B. Uang dan loyalitas seorang pemain.
 - C. Pihak City dengan uang yang tak terbatas.
 - D. AC Milan dan Kaka tidak bisa dipisahkan.
 - E. Keinginan City memboyong Kaka.
67. Pertanyaan yang sesuai dengan isi bacaan adalah... .
- A. Mengapa pihak City kecewa dengan Kaka dan AC Milan?
 - B. Apa yang mendorong City “ngebet” untuk memboyong Kaka?
 - C. Bagaimana Kaka menyikapi adanya tawaran dari pihak City?
 - D. Bagaimana apresiasi AC Milan menyangkut kepindahan Kaka.
 - E. Sejak kapan City menjadi sebagai bagian klub terkaya di dunia?
68. Pernyataan yang sesuai dengan bacaan di atas adalah, kecuali... .
- A. Saat ini dengan uang Rp2,1 triliun dapat membuat City sebagai salah satu klub terkaya.
 - B. Tawaran senilai Rp2,1 triliun akhirnya tidak bisa menarik Kaka dari AC Milan.
 - C. City dengan dana tak terbatas akan beralih ke tempat lain membawa sekoper uang.
 - D. Gaji tertinggi di dunia ditawarkan City untuk Kaka.
 - E. Loyalitas Kaka memberikan suntikan moral bagi AC Milan.
69. Kalimat sumbang paragraf tersebut adalah.....
- A. Isu soal uang dan sepak bola tidak akan berakhir dengan kolapsnya pembelian Kaka.
 - B. Uang yang akan membuat City sebagai salah satu klub kaya di jajaran liga Inggris.
 - C. City dengan dana tak terbatas akan beralih ke tempat lain membawa sekoper uang.
 - D. Namun, budaya lama loyalitas kepada klub ternyata masih bisa mengalahkan uang.
 - E. Tanyakan hal itu kepada Kaka dan Manchester City.
70. *Eksplorasi pasir besi di pantai selatan Kabupaten Purworejo, Jawa Tengah yang telah dilakukan bertahun-tahun oleh PT Aneka Tambang dinilai belum dapat mendongkrak pendapatan asli daerah secara signifikan.*
Kata *signifikan* dalam kalimat tersebut digunakan dengan arti ...
- A. mencolok
 - B. berarti
 - C. jelas
 - D. umum
 - E. nyata

71. Pajak merupakan salah satu sumber pembiayaan pembangunan. Bagi masyarakat, pajak merupakan salah satu bentuk partisipasi dalam pembangunan yang semakin mandiri. Setiap warga negara yang dewasa dan berpenghasilan perlu menyadari arti penting penarikan pajak karena dalam rangka pembangunan, negara membutuhkan banyak biaya. Maka, satu-satunya cara agar penerimaan negara tercukupi, pemerintah memungut pajak demi mempercepat pemerataan.

Judul yang tepat berdasarkan bacaan adalah ...

- A. Pajak sebagai Salah Satu Sumber Pembiayaan Pembangunan
 - B. Pentingnya Kesadaran Masyarakat Membayar Pajak
 - C. Partisipasi Masyarakat dalam Pembangunan
 - D. Masyarakat Wajib Membayar Pajak
 - E. Pemungutan Pajak demi Pembangunan
72. Penggunaan huruf kapital yang benar terdapat dalam kalimat di bawah ini adalah... .
- A. Dia akan pulang ke Hongkong pada bulan Januari tahun ini.
 - B. Kita harus menggunakan bahasa Indonesia dengan baik dan benar.
 - C. Masyarakat bersuka cita menyambut datangnya bulan Lebaran.
 - D. Kabupaten Bantul terkenal dengan geplak Bantul dan Projo Tamansari.
 - E. Sebutan untuk puncak Suroloyo di wilayah pegunungan Menoreh Kulon Progo.
73. Kalimat yang menggunakan ragam bahasa baku adalah... .
- A. Hal itu disebabkan karena dia tidak mampu mempertahankan alibinya.
 - B. Saya tidak menduga bahwa beberapa dari orang-orang itu adalah pasukan kopassus.
 - C. Orang-orang sudah pada pergi meninggalkan tanah kelahirannya.
 - D. Sebelum membilas, terlebih dahulu Anda cuci bersih kain tersebut.
 - E. Atas kehadirannya, kami ucapkan terima kasih.
74. Sebagaimana negara kepulauan dengan 65 persen penduduk yang tinggal di wilayah pesisir, pemanasan global yang berdampak pada naiknya permukaan laut harus dilihat sebagai ancaman yang serius bagi Indonesia. Sementara itu, sebagai negara agraris, produktivitas pertanian negeri ini pun terancam gangguan tidak kalah serius dampak perubahan iklim.

Dari kutipan di atas dapat disimpulkan hal-hal berikut ini, kecuali... .

- A. Pemanasan global mengancam bidang pertanian dan kelautan Indonesia.
 - B. Ancaman terbesar dari pemanasan global dihadapi oleh penduduk yang tinggal di wilayah pesisir.
 - C. Pemanasan global mengancam Indonesia sebagai negara kepulauan dan negara agraris.
 - D. Naiknya permukaan laut dan perubahan iklim merupakan akibat dari pemanasan global.
 - E. Penduduk yang hidup dari pertanian tidak mengalami pemanasan global karena sudah mengalami masalah perubahan iklim.
75. Penggunaan preposisi secara tepat terdapat dalam kalimat berikut
- A. Sudah seharusnya jika anak yang berbakti pada orang tua.
 - B. Bulan dan Matahari selalu berputar di siang dan malam hari.
 - C. Beliau memperbincangkan tentang keberhasilan siswanya menjuarai olimpiade itu.
 - D. Kepada Bapak Camat Banyuraden kami persilakan.
 - E. Di masa yang akan datang manusia dapat mewujudkan kendaraan tanpa bahan bakar.

Number 76 to 78 refer to the following passage

European society in the 18th century was a broad pyramid, with the few of the nobility at the top and the masses of the peasantry at the bottom. In Western Europe there was an increasing(76).....between the wealthy nobility, who spent much of their time practicing(77)..... at court, and those lower nobles who stayed in the countryside, hunting and running their estates with little concern for either social niceties or abstract ideas. Only a few at the social peak lived the life portrayed in 20th century historical novels-amid bright calender, powdered wigs, and beautiful women but it was in this milieu that the century earned its reputation for licentiousness and decadence.(78)....., and the ways of Versailles were mimicked across Europe, most absurdly in the courts of the tiny German principalities.

76. The option that best completes (76) is

- A. combination
- B. split
- C. unity
- D. universe
- E. similarity

77. The option that best completes (77) is

- A. exquisite etiquette
- B. social norm
- C. bad culture
- D. attitude problems
- E. family dispute

78. The option that best completes (78) is

- A. Every monarch had his mistresses.
- B. Thus there was not mistrial.
- C. Mistrust came from every monarch.
- D. Mistrial never occured.
- E. Every monarch did not have his mistresses.

Questions 79 to 82 refer to the following passage.

For a century before the Erie Canal was built, there was much discussion among the general population of the Northeast as to the need for connecting the waterways of the Great Lakes with the Atlantic Ocean. A project of such monumental proportions was not going to be undertaken and completed without a supreme amount of effort.

The man who was instrumental in accomplishing the feat that was the Erie Canal was DeWitt Clinton. As early as 1812, he was in the Nation's capital petitioning the federal government for financial assistance on the project, emphasizing what a boon to the economy of the country the canal would be; his efforts with the federal government, however, were not successful.

In 1816, the Clinton asked the New York State Legislature for the funding for the canal, and this time he did succeed. A canal commission was instituted, and Clinton himself was made head of it. One year later, Clinton was elected governor of the state, and soon after, construction of the canal was started.

The canal took eight years to complete, and Clinton was on the first barge to travel the length of the canal, the Seneca Chief, which departed from Buffalo on October 26, 1825, and arrived in New York City on November 4. Because of the success of the Erie Canal, numerous other canals were built in other parts of the country.

79. The information in the passage
- A. gives a cause followed by an effect
 - B. is in chronological order
 - C. lists opposing viewpoints of a problem
 - D. is organized spatially
 - E. is presented randomly
80. When did Clinton ask the U.S. government for the canal?
- A. One hundred years before the canal was built
 - B. In 1812
 - C. In 1816
 - D. In 1825
 - E. In 1832
81. In what year did the actual building of the canal get underway...
- A. in 1812 C. in 1817 E. In 1821
 - B. in 1816 D. in 1825
82. The paragraph following the passage most probably discusses...
- A. the century before the building of the Erie Canal
 - B. canals in different U.S. locations
 - C. the effect of the Erie Canal on the Buffalo area
 - D. Clinton's career as governor of New York
 - E. another canals around the world

Questions 83 to 86 refer to the following passage.

Esperanto is what is called a planned, or artificial language. It was created more than a century ago by Polish eye doctor Ludwik Lazar Zamenhof. Zamenhof believed that a common language would help to alleviate some of the misunderstandings among cultures.

In Zamenhof's first attempt at a universal language, he tried to create a language that was as uncomplicated as possible. That first language included words such as *ab*, *ac*, *ba*, *be*, and *ce*. This did not result in a workable language in that these monosyllabic words, though short, were not easy to understand or to retain.

Next, Zamenhof tried a different way constructing a simplified language. He made the words in his language sound like words that people already knew, but he simplified the grammar tremendously. One example of how he simplified the language can be seen in the suffixes: all nouns in this language end in "o", as in the noun *amiko*, which means "friend", and all adjectives end in -a, as in the adjective *bela*, which means "pretty". Another example of the simplified language can be seen in the prefix mal-, which makes a word opposite in meaning the word malamiko therefore means "enemy" and the word *malbela* therefore means "ugly" in Zamenhof's language.

In 1887, Zamenhof wrote a description of this language and published it. He used a penname, Dr. Esperanto, when signing the book. He selected the name Esperanto because this word means "a person who hopes" in his language. Esperanto clubs began popping up throughout Europe, and by 1905 Esperanto had spread from Europe to America and Asia.

In 1905, the First World Congress of Esperanto took place in France, with approximately 700 attendees from 20 different countries. Congresses were held annually for nine years, and 4,000 attendees were registered for the Tenth World Esperanto Congress scheduled for 1914, when World War I erupted and forced its cancellation.

Esperanto has had its up and down in the period since World War I. Today, years after it was introduced, it is estimated that perhaps a quarter of a million people are fluent in it. Current advocates would like to see its use grow considerably and are taking steps to try to make this happen.

83. The topic of this passage is.....
- A. A language developed in the last few years.
 - B. One man's effort to create a universal language.
 - C. How language can be improved.
 - D. Using language to communicate internationally.
 - E. The first universal language developed by the First World Congress.
84. According to the passage, Zamenhof wanted to create a universal language
- A. to resolve culture differences
 - B. to provide a more complex language
 - C. to build a name for himself
 - D. to create one world culture
 - E. to enrich world language
85. According to the passage, what happened to the Tenth world Esperanto Congress?
- A. It had 4,000 attendees.
 - B. It was scheduled for 1915.
 - C. It had attendees from 20 countries.
 - D. It never took place.
 - E. It was the first congress ever.
86. This passage would most likely assigned reading in a course on....
- A. European history
 - B. English grammar
 - C. world government
 - D. applied linguistics
 - E. English literature

Questions 87 to 90 refer to the following passages.

Passage A

Fast food is nearly everywhere, from shopping centers to the office. An advantage of fast food is its convenience. No matter what time you are hungry, or where you are, there's probably at least one fast food restaurant just a short drive away.

A disadvantage of fast food's convenience is that you might start to choose it instead of healthier options. Fast food is ready to eat, so you do not have to cook or prepare it. In many cases, you do not even have to leave your car to order it, so you may end up eating a burger and fries while you're driving and not even thinking about it.

Passage B

One of the main attractions of fast food is the taste, whether it's pizza, burgers, sandwiches, french fries, milkshakes or tacos. Although you may enjoy it, the taste may come from unhealthy fats, sodium, MSG and added sugars. This may spoil your appreciation of the natural flavors of foods such as fruits, vegetables, grains, dairy products and lean proteins.

A disadvantage of fast food is that it is easy to order unhealthy meals if you are not careful. Your meal can be high in saturated fat from fried foods, meats and cheeses. You may get refined starches and sugars from white bread or buns, shakes, desserts and soft drinks, and most fast food is high in sodium. But some fast food restaurants offer healthier options. Consider salads with light dressing, grilled chicken, whole wheat buns, fresh fruit salad and diet drinks.

Fast food is a cheap source of prepared food. And it usually costs only a small amount of money to order a larger portion of fast food. But this is also a disadvantage, because it encourages you to overeat. Instead, use fast food portion sizes to your waistline's advantage. Order smaller sizes, such as items from the value or children's menus.

Adapted from: <http://www.livestrong.com/article/410250->

87. Which of the following themes is mainly discussed in both passages?

- A. The danger or harmful effects of fast food.
- B. The benefits of eating a lot of fast food.
- C. The popularity of some fast food restaurants.
- D. The comparison between healthy food and fast food.
- E. The advantages and disadvantages of fast food.

88. Which of the following statements is true according to both passages?

- A. Fast food is not widely known in modern society.
- B. Fast food has both advantages and disadvantages.
- C. Fast food is the best menu for people who are in diet.
- D. Fast food is hardly recommended by nutritionists.
- E. Fast food is a promising business market.

89. Like passage B, passage A

- A. presents both the good and bad sides of fast food
- B. presents different factors of fast food popularity
- C. explains only the good sides of fast food
- D. shows some diseases caused by fast food consumption
- E. declares the society's responsibility for reducing fast food consumption

90. Which of the following statements is the best summary of both passages?

- A. The government should ban the operation of fast food restaurants.
- B. Fast food restaurants should offer healthier menu for its consumers.
- C. Although fast food has many advantages, it also has some disadvantages that people should consider.
- D. Fast food will become the world's phenomenon in the future.
- E. Diet people should go to fast food restaurants as often as they can.

KUNCI JAWABN TRYOUT 2 TKPA SBMPTN 2016

1.	C	11.	D	21.	B	31.	C	41.	B	51.	D	61.	A	71.	B	81.	D
2.	D	12.	B	22.	E	32.	D	42.	A	52.	B	62.	C	72.	C	82.	B
3.	C	13.	A	23.	E	33.	E	43.	A	53.	E	63.	D	73.	B	83.	B
4.	E	14.	D	24.	C	34.	E	44.	B	54.	C	64.	E	74.	E	84.	A
5.	E	15.	C	25.	E	35.	A	45.	B	55.	C	65.	D	75.	D	85.	D
6.	E	16.	C	26.	C	36.	C	46.	C	56.	A	66.	B	76.	B	86.	D
7.	E	17.	E	27.	B	37.	A	47.	B	57.	B	67.	C	77.	A	87.	E
8.	C	18.	D	28.	B	38.	D	48.	E	58.	D	68.	A	78.	A	88.	B
9.	A	19.	B	29.	B	39.	D	49.	C	59.	D	69.	D	79.	B	89.	A
10.	E	20.	E	30.	C	40.	C	50.	A	60.	D	70.	A	80.	C	90.	C